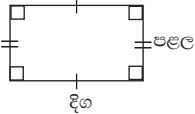
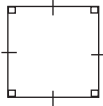
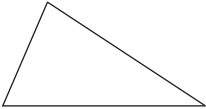
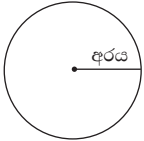


මෙම පාඩම ඉගෙනීමෙන් ඔබට

- කේන්ද්‍රික ඛණ්ඩයක පරිමිතිය සෙවීමට,
- කේන්ද්‍රික ඛණ්ඩ ආශ්‍රිත තල රූපවල පරිමිතිය සෙවීම සම්බන්ධ ගැටලු විසඳීමට හැකියාව ලැබෙනු ඇත.

තල රූපවල පරිමිතිය

සෘජුකෝණාස්‍රය, සමචතුරස්‍රය, ත්‍රිකෝණය සහ වෘත්තය යන තල රූපවල පරිමිතිය සෙවීම පිළිබඳ ව මීට පෙර ශ්‍රේණිවල දී ඔබ හදාරා ඇත. ඒ පිළිබඳ ව කරුණු සාරාංශ කර මෙසේ දැක්විය හැකි ය.

	තල රූපය	පරිමිතිය
සෘජුකෝණාස්‍රය		$2 \text{ (දිග} + \text{පළල)}$
සමචතුරස්‍රය		$4 \times \text{පැත්තක දිග}$
ත්‍රිකෝණය		පාද තුනේ දිගෙහි එකතුව
වෘත්තය		$2\pi \times \text{අරය}$