




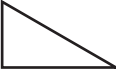





කාර්ය පත්‍රිකාව

ඔබට සපයා ඇති කඩදාසියේ මුද්‍රිත තල රූප කපා ගන්න.

එක් එක් තල රූපය ද්විපාර්ශ්වික සමමිතිය සහිත තල රූපයක් දැයි විමසා බලන්න.

ද්විපාර්ශ්වික සමමිතිය සහිත තල රූපවල ඇති සියලුම සමමිති අක්ෂ අඳින්න.

ඔබගේ නිරීක්ෂණය අනුව පහත දැක්වෙන වගුව සම්පූර්ණ කරන්න.

රූපය	ද්විපාර්ශ්වික සමමිතිය ඇත/නැත	සමමිති අක්ෂ ගණන
1 රූපය 	ඇත	4
2 රූපය 		
3 රූපය 		
4 රූපය 		
5 රූපය 		
6 රූපය 		
7 රූපය 		
8 රූපය 		
9 රූපය 		
10 රූපය 